

دبستان : .....

ریاضی پایه اول ابتدایی

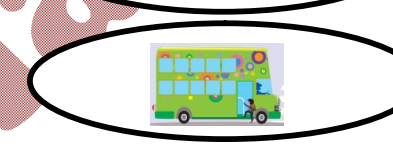
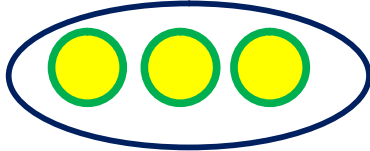


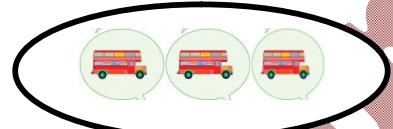
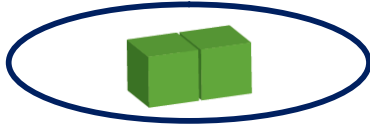
نام و نام خانوادگی : .....

کلاس : .....

( تامله ی ۱۲۰ کتاب )

نام آموزگار : .....

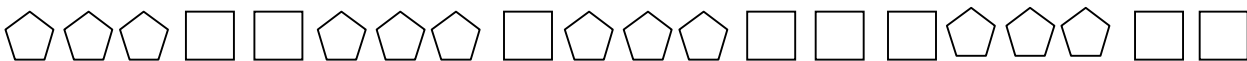
۱- دسته هایی تعداد شکلهایشان مثل هم است با خط کش به هم وصل کن .



۲- به تعداد انگشتها ی باز شده، از شکلهای روبرو رنگ کن .

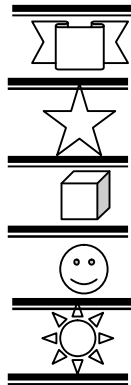
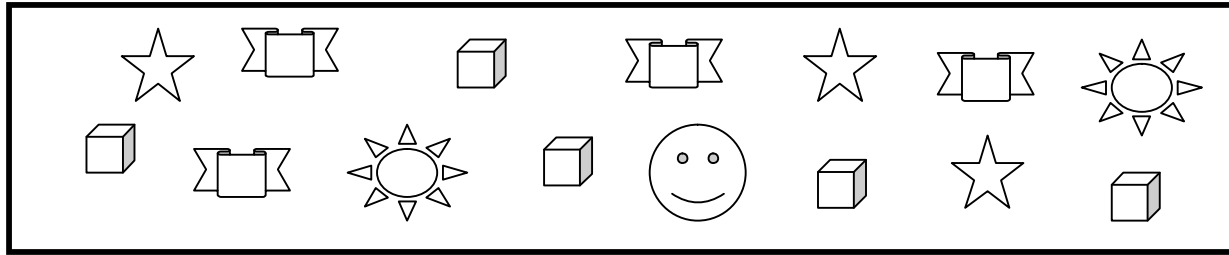


۳- الگوی صحیح را انتخاب و به دلخواه رنگ کن.



ع- به تعداد هر شکل خانه های مقابل آن را به دلخواه رنگ کن و در خانه بعدی به

تعداد چوب خط بکش.





							////



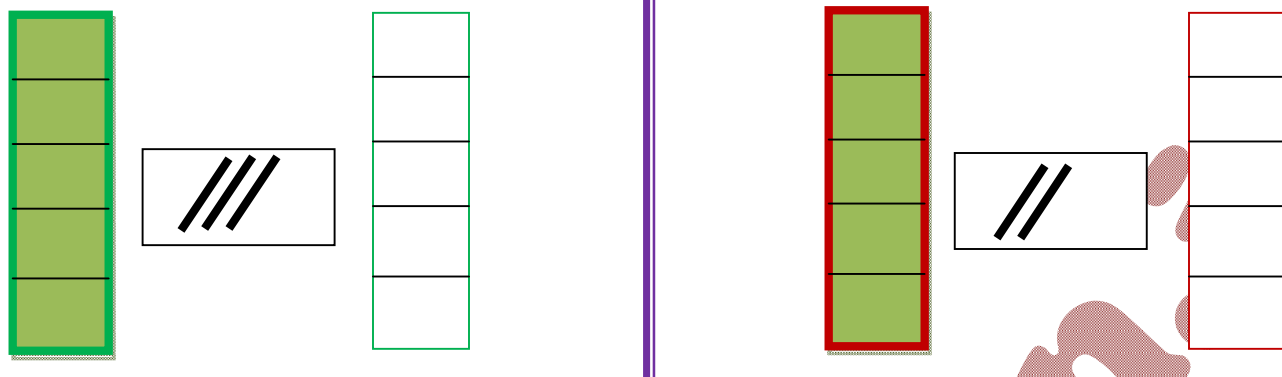
۵- الگوها را ادامه بده .










۶- انگشتان دو دست را شمرده و به تعداد آنها چوب خط بکش .




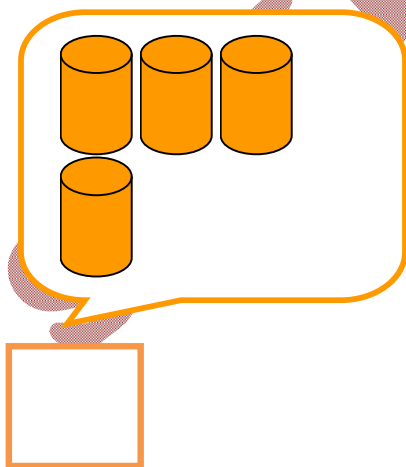
۷- از چینه های سمت چپ به تعداد چوب خط ها بزن و به تعداد باقیمانده چینه از چینه های سمت راست رنگ کن.



۸- جدول زیر را با اشکال هندسی مناسب کامل کن.


۹- به تعداد اشکال هر دسته در کادر رنگی زیر آن چوب خط بکش.



۱۰- با شابلون مشابه هر شکل را زیر آن بکش.

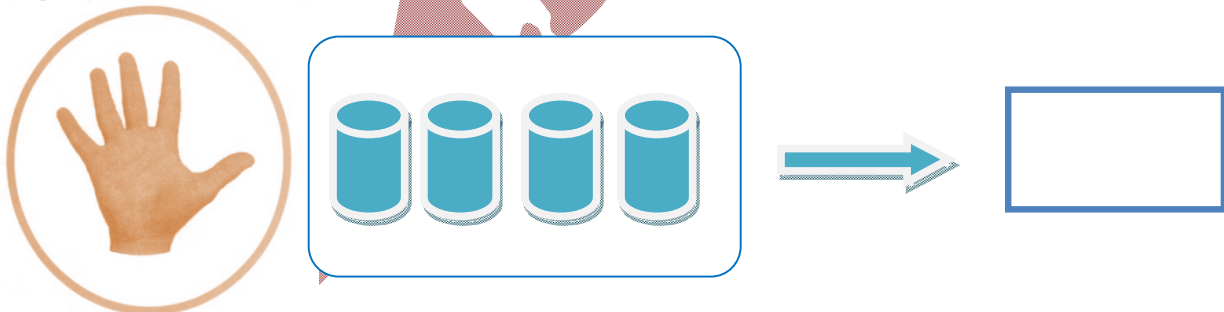
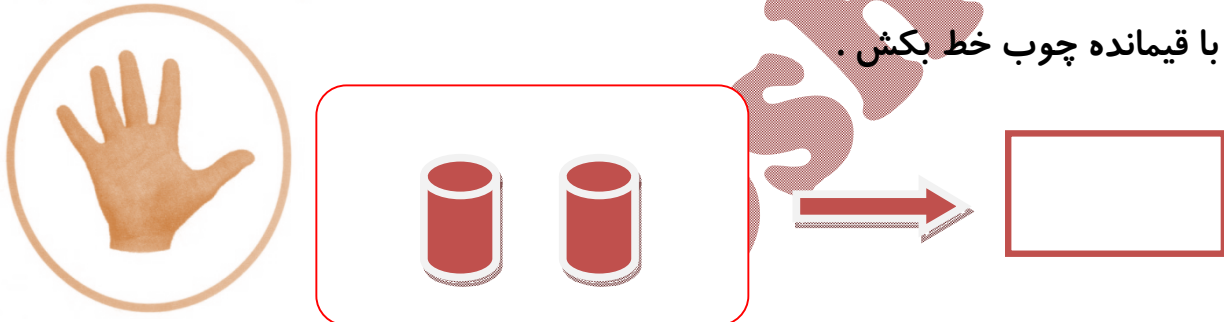


۱۱- شکل‌های سمت چپ و راست با هم چند تا هستند با کشیدن چوب خط نشان بده.



۱۲- انگشتان یک دست را باز کن و به تعداد شکلها از انگشتان خود را ببند و به تعداد

انگشتان با قیمانده چوب خط بکش.



تهیه کننده

محمد حسین جعفری

برای سایت معلم عزیز

آقای تهرقی و سایت سفت کوشان